














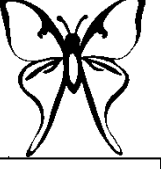

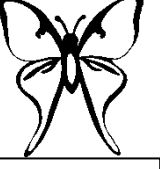








| | | | | |
|---|---|---|--|---|
| F2 |  |  |  |  |
|  |  <input type="text"/> |  <input type="text"/> |  <input type="text"/> |  <input type="text"/> |
|  |  <input type="text"/> |  <input type="text"/> |  <input type="text"/> |  <input type="text"/> |
|  |  <input type="text"/> |  <input type="text"/> |  <input type="text"/> |  <input type="text"/> |
|  |  <input type="text"/> |  <input type="text"/> |  <input type="text"/> |  <input type="text"/> |

Freiwillige Hausaufgabe:

3. Lies im Buch die Seite 254 und betrachte den Stammbaum genau.
 - a) Warum tritt bei Frauen diese Krankheit meist nicht in Erscheinung?
 - b) Kann ein Mann diese Krankheit an seine Söhne weitergeben? Begründe!
 - c) Was könnte dazu führen, dass eine Frau Bluter ist?
 - d) Wieso sollen enge Verwandten keine gemeinsamen Kinder bekommen?



Dies gilt für alle Erbkrankheiten, deren Ursache auf dem X - Chromosom liegt und rezessiv vererbt werden.