


AB2 Klammer mal Klammer

Summen multiplizieren

1 Zeichne die Bogenpfeile an die Aufgabe. Multipliziere die Summen. Trage die Produkte in die passenden Felder ein.

a) 

= $x \cdot y$ + + + $2 \cdot 4$

$x \cdot y$	
	$2 \cdot 4$




b) $(a + 3) \cdot (b + 6)$

2 Multipliziere die Summen

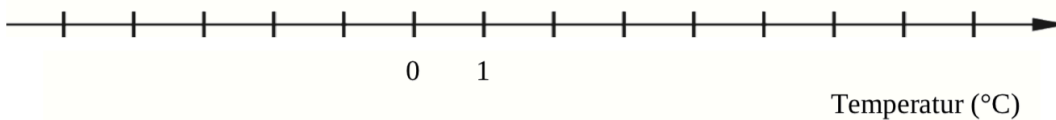
AB3 : Wiederholung Zuordnung

Aufgabe 1

Die Abbildung zeigt, welche höchsten und niedrigsten Temperaturen von Montag bis Mittwoch erwartet werden.

	Montag 	Dienstag 	Mittwoch 
Höchste Temperatur	-1°	6°	5°
Niedrigste Temperatur	-5°	-2°	0°

a) Trage jeweils die „Höchste Temperatur“ von Montag bis Mittwoch in die Zahlengerade ein.



b) Bestimme jeweils den Temperaturunterschied zwischen der höchsten und der niedrigsten Temperatur am Montag und am Dienstag.